

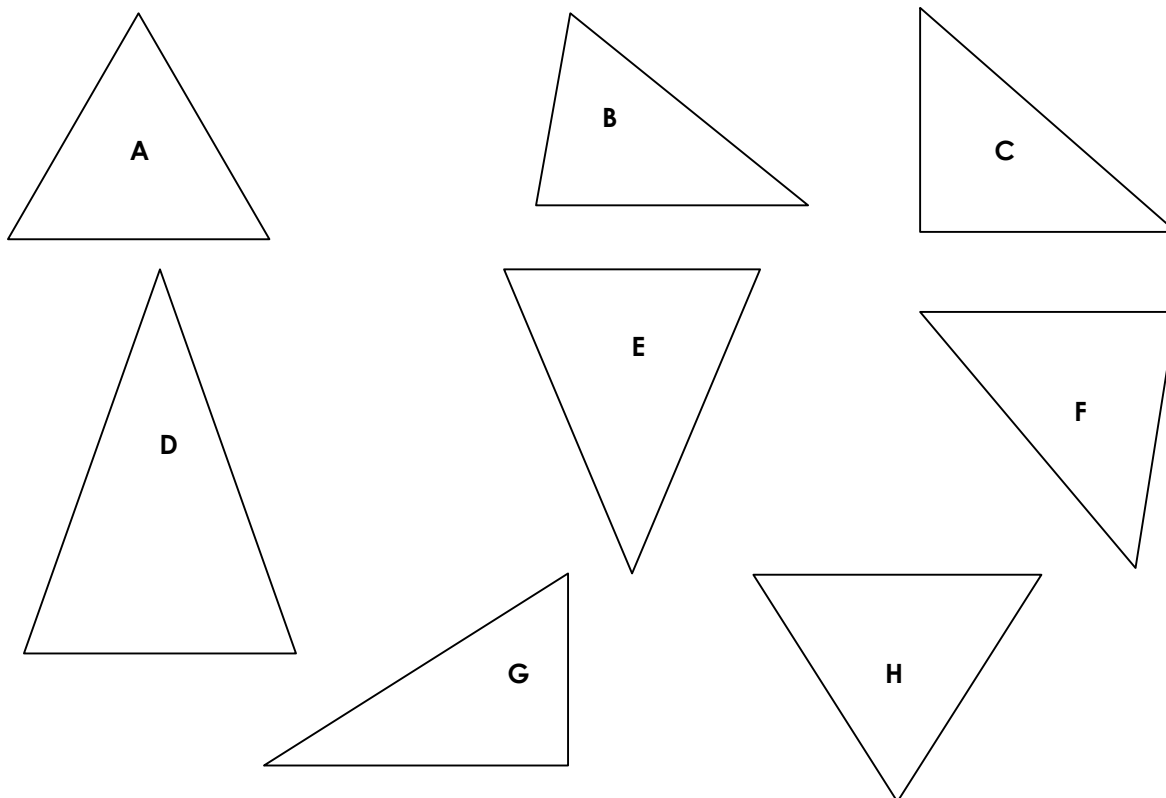
Prénom :

Date :

| | |
|---|--|
|  | <h1 style="margin: 0;">GÉOMÉTRIE</h1> <p style="margin: 0;">Les triangles (01)</p> |
|---|--|

- Les figures géométriques à 3 côtés et 3 sommets : les triangles

| Noms de la figure | Particularités |
|-------------------------|----------------------|
| Le triangle quelconque | Aucune particularité |
| Le triangle isocèle | 2 côtés sont égaux |
| Le triangle rectangle | 1 angle est droit |
| Le triangle équilatéral | 3 côtés sont égaux |



- Complète le tableau suivant (avec des O pour « oui » et des N pour « non ») :

| LES CÔTÉS | A | B | C | D | E | F | G | H |
|----------------|---|---|---|---|---|---|---|---|
| 3 côtés égaux | O | N | | | | | | |
| 2 côtés égaux | O | N | | | | | | |
| LES ANGLES | A | B | C | D | E | F | G | H |
| 1 angle droit | N | N | | | | | | |
| 2 angles égaux | O | N | | | | | | |
| 3 angles égaux | O | N | | | | | | |

- Quelle est la nature de ces figures ?

| | | | |
|---------------------|------------------|--------------------|----------------------|
| Triangle quelconque | Triangle isocèle | Triangle rectangle | Triangle équilatéral |
| B | | | A - |

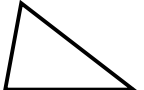


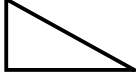
Prénom :

Date :

| | |
|---|--|
|  | <h1 style="margin: 0;">GÉOMÉTRIE</h1> <p style="margin: 0;">Les triangles (02)</p> |
|---|--|

- Les figures géométriques à 3 côtés et 3 sommets : les triangles

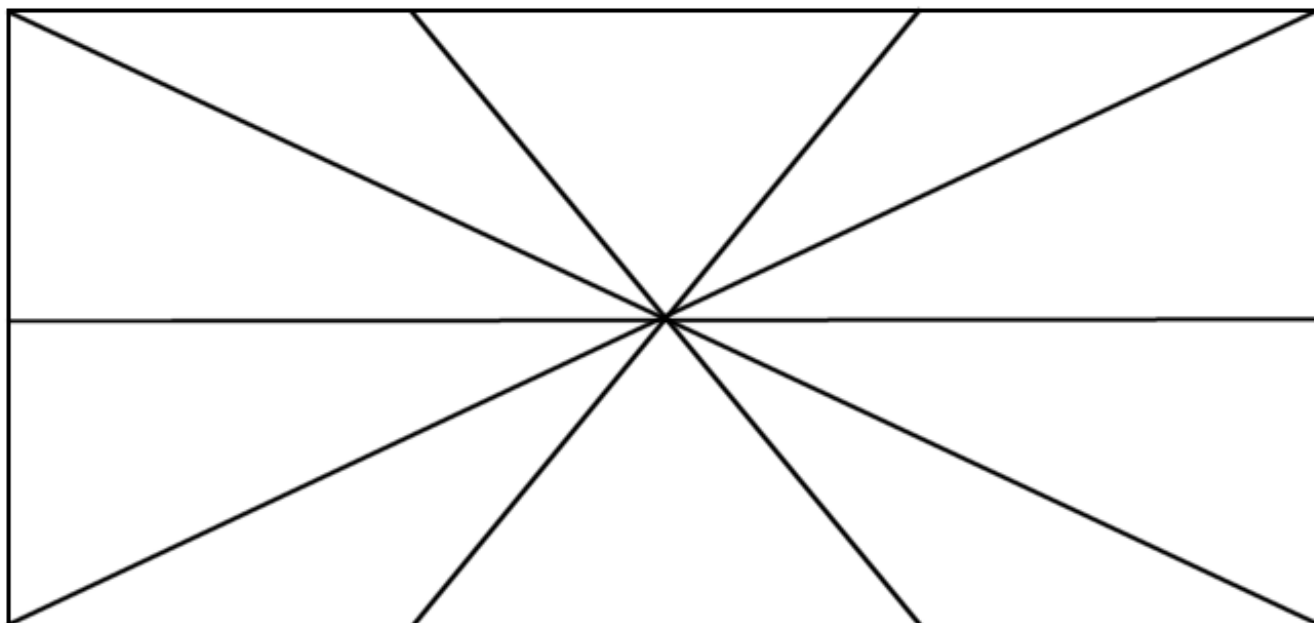
1./ Complète :

| | | | |
|---|---------------------|---|---------------------|
|  | : un triangle |  | : un triangle |
|  | : un triangle |  | : un triangle |

2./ Complète :

| Noms de la figure | Particularités |
|-------------------------|----------------|
| Le triangle quelconque | |
| Le triangle isocèle | |
| Le triangle rectangle | |
| Le triangle équilatéral | |

3./ Combien de triangles composent cette figure :



| | | | |
|----------------------------|-----------------------------|-------------------------|---------------------------|
| Triangle quelconque | Triangle équilatéral | Triangle isocèle | Triangle rectangle |
| | | | |