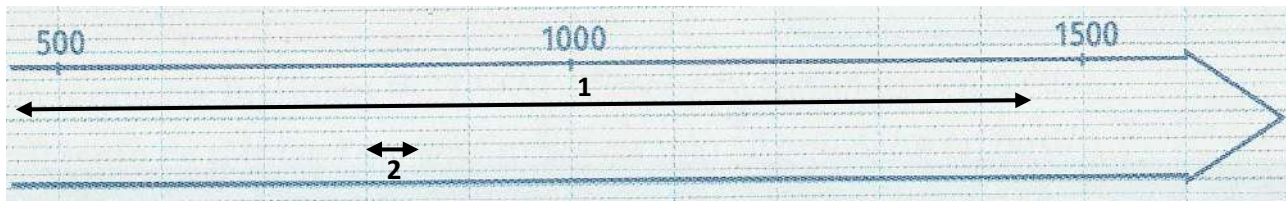


Révisions histoire : L'empire byzantin et l'Europe carolingienne.

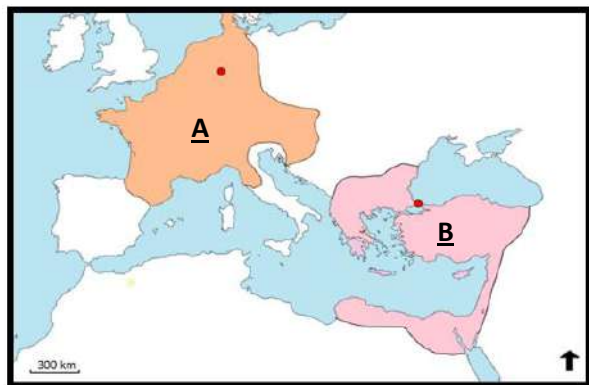
Une reprise en douceur !! Tu peux utiliser ton cahier pour faire les exercices !! A toi de jouer.

Exercice 1 : je me repère dans le temps et dans l'espace.



- 1) Sur la frise ci- dessus, quel numéro représente :
 - L'empire byzantin : _____
 - L'empire carolingien : _____
- 2) A quel période historique, ces empires appartiennent-ils ? Coche ta réponse.

- Antiquité
 Moyen- Age
 Epoque moderne
 Epoque contemporaine



3) Complète le tableau ci- dessous

	<u>Nom de l'empire représenté par la lettre</u>	<u>Nom de la capitale de cet empire</u>
<u>A</u>	-----	-----
<u>B</u>	-----	-----

Exercice 2 : Je trie mes connaissances sur l'empire byzantin et carolingien.

Colorie, au crayon de couleur :

- Orange les mots et expressions qui concernent l'empire carolingien.
- Rose les mots et expressions qui concernent l'empire byzantin.

Rome	Constantinople	Aix- la Chapelle	Sainte Sophie	Ouest de l'Europe
Est de l'Europe	Partage de Verdun (843)	Du Vème au XVème siècle	Charlemagne (800-814)	Justinien
Chrétien	Eglise catholique	Eglise orthodoxe	Pape	Patriarche
Basileus	Chrétien			

Exercice 3 : Je rédige un récit.



Journaliste célèbre, tu dois rédiger un article d'au moins 5 lignes pour **présenter au choix, l'empire byzantin ou carolingien.**

Pour rédiger ton article, tu dois utiliser tes réponses aux questions précédentes et la leçon de ton cahier.



Pour que ton article soit complet, tu dois :

- Situer l'empire dans le temps (dates) et dans l'espace (lieu).
- Préciser par qui cet empire est dirigé en donnant un nom précis et nommer ses pouvoirs.
- Préciser la religion pratiquée dans l'empire.

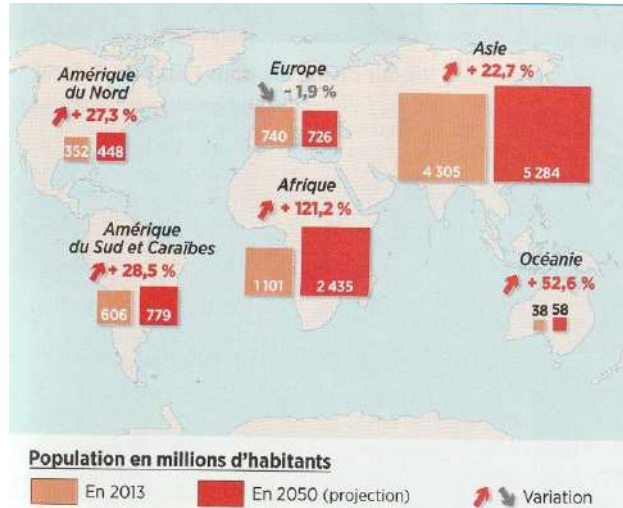
Révisions géographie : la croissance démographique mondiale.

Compétences travaillées :

- Prélever une information dans un document (graphique et carte).
- Réaliser une tâche cartographique

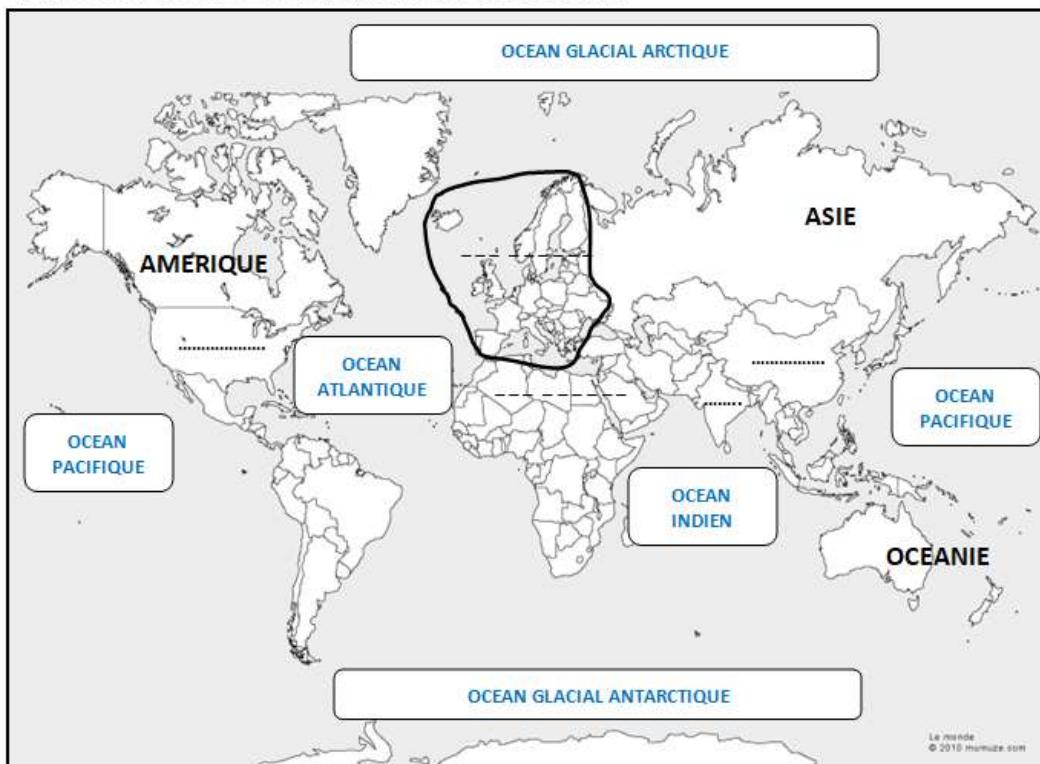
Doc A : Les pays les plus peuplés du monde.

Doc B : L'évolution de la population par continent.



- 1) D'après le document A, quels sont les trois pays les plus peuplés ? Nomme- les, au stylo noir et en lettres MAJUSCULES, sur la carte ci- dessous et colorie- les au crayon de couleur rouge.
- 2) D'après le document B, Quel continent devrait connaître une très forte croissance (= augmentation) de sa population. Nomme- le au stylo noir et en lettres MAJUSCULES sur la carte ci- dessous et colorie- le au crayon de couleur orange.
- 3) D'après le document B, quel continent devrait connaître une baisse de sa population. Nomme le en noir et en lettres MAJUSCULES sur la carte ci- dessous et colorie- le au crayon de couleur jaune.
- 4) Complète la légende.

L'inégale croissance de la population dans le monde



Légende :

- : Les trois pays les plus peuplés de la planète.
- : Le continent qui devrait connaître la plus forte croissance démographique.
- : Continent qui devrait connaître une baisse de sa population.